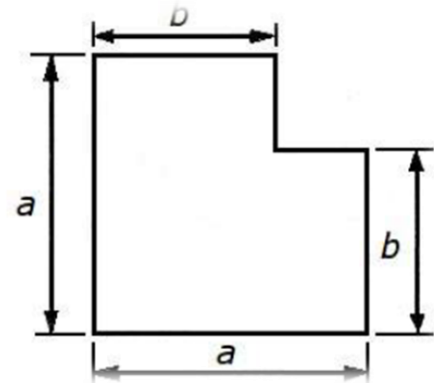


SERIE D'EXERCICES N° : 07

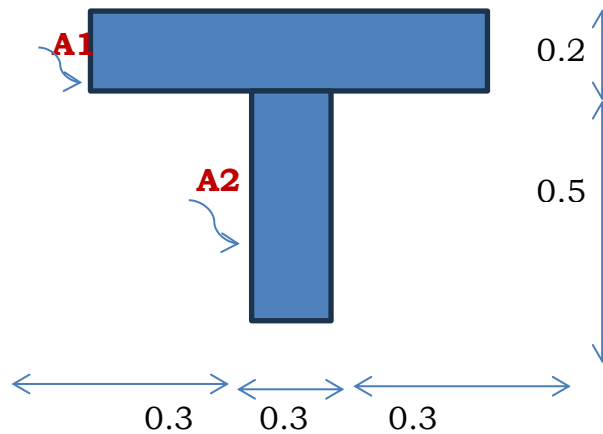

Exercice n° 01 :

Déterminer l'aire et le centre de gravité de la section plane ci-dessous par la méthode de décomposition ?



Exercice n° 02 :

Calculer de la position du centre de gravité des sections suivantes ?



Exercice n° 03 :

Rechercher le centre de gravité de la surface ci-contre ?

(Dimensions en mm)

