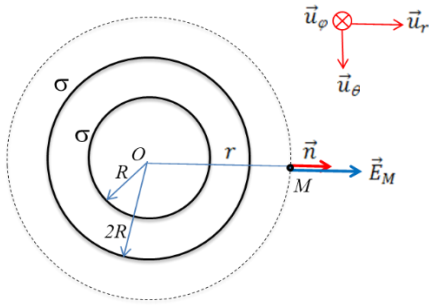


**Exercice 1 : (7/7)**



1°/

$$Q_1 = \sigma S_1 = 4\pi R^2 \sigma \quad , \quad Q_2 = \sigma S_2 = 4\pi (2R)^2 \sigma = 16\pi R^2 \sigma$$

2°/

$$\oiint_{S_G} \vec{E} \cdot \vec{n} \cdot dS_G = \frac{1}{\epsilon_0} \cdot \sum_i^n q_i(int)$$

On pose :

$$T_1 = \oiint_{S_G} \vec{E}_M \cdot \vec{n} \cdot dS_G \quad , \quad T_2 = \frac{1}{\epsilon_0} \cdot \sum_i^n q_i(int)$$

$$T_1 = \oiint_{S_G} E_M(r) \cdot \vec{u}_r \cdot \vec{n} \cdot dS_G$$

L'invariance et la symétrie donnent :

$$T_1 = E_M(r) \cdot S_G = E_M(r) \cdot 4\pi r^2$$

a) Au point M à l'extérieur de la sphère 2  $[2R, \infty[$

$$T_2 = \frac{1}{\epsilon_0} \cdot \sum_i^n q_i(int) = \frac{Q_1 + Q_2}{\epsilon_0} = \frac{20\pi R^2 \sigma}{\epsilon_0}$$

$$T_1 = T_2 \rightarrow E_1(r) = \frac{5\sigma R^2}{\epsilon_0 r^2}$$

b) Au point M à entre les 2 sphères  $[R, 2R]$

$$T_2 = \frac{1}{\epsilon_0} \cdot \sum_i^n q_i(int) = \frac{Q_1}{\epsilon_0} = \frac{4\pi R^2 \sigma}{\epsilon_0}$$

$$T_1 = T_2 \rightarrow E_2(r) = \frac{\sigma R^2}{\epsilon_0 r^2}$$

b) Au point M à l'int de la sphère 1  $[0, R]$

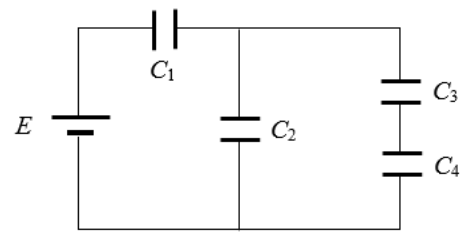
$$T_2 = \frac{1}{\epsilon_0} \cdot \sum_i^n q_i(int) = \frac{0}{\epsilon_0} = 0$$

$$T_1 = T_2 \rightarrow E_3(r) = 0$$

**Exercice 2 : (6/6)**

$$C' = \frac{C_3 C_4}{C_3 + C_4} = \frac{2}{3} \mu F \quad , \quad C'' = C_2 + C' = \frac{8}{3} \mu F$$

$$C_E = \frac{C_1 C''}{C_1 + C''} = \frac{8}{11} \mu F$$



$C_1$  est en série avec  $C'' \rightarrow Q_1 = Q''$

$$E = \frac{Q_1}{C_1} + \frac{Q''}{C''} = Q_1 \left( \frac{1}{C_1} + \frac{1}{C''} \right) = \frac{Q_1}{C_E}$$

$$Q_1 = C_E \cdot E = 8 \mu C \quad , \quad V_1 = \frac{Q_1}{C_1} = 8 V$$

$$V_2 = E - V_1 = 3 V \quad , \quad Q_2 = C_2 \cdot V_2 = 6 \mu C$$

$$V_2 = V_3 + V_4 = \frac{Q_3}{C_3} + \frac{Q_4}{C_4}$$

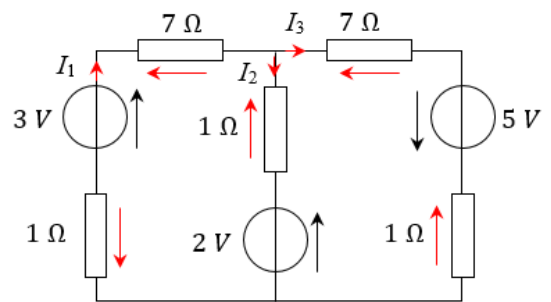
$C_3$  est en série avec  $C_4 \rightarrow Q_3 = Q_4$

$$V_2 = Q_3 \left( \frac{1}{C_3} + \frac{1}{C_4} \right) = \frac{Q_3}{C'}$$

$$Q_3 = C' \cdot V_2 = 2 \mu C \quad , \quad V_3 = \frac{Q_3}{C_3} = 2 V$$

$$Q_4 = Q_3 = 2 \mu C \quad , \quad V_4 = \frac{Q_4}{C_4} = 1 V$$

**Exercice 3 : (7/7)**



**2 nœuds, 3 branches, 3 courants à calculer**

Loi des nœuds :

$$I_1 = I_2 + I_3$$

Loi des mailles :

Maille 1

$$3 = 2 + 7 I_1 + 1 I_2 + 1 I_3$$

Maille 2

$$2 + 5 + 1 I_2 = 7 I_3 + 1 I_3$$

En remplaçant  $I_1$  par son expression dans l'équation de la maille 1, on obtient :

$$\begin{cases} 9 I_2 + 8 I_3 = 1 \\ 1 I_2 - 8 I_3 = -7 \end{cases}$$

Tout calcul fait, on obtient :

$$I_2 = -0.6 \quad , \quad I_3 = 0.8 A$$

$$I_1 = I_2 + I_3 = -0.6 + 0.8 = 0.2 A$$

Le sens réel du courant  $I_2$  est opposé au sens de la flèche (voir figure).