

TD1 : MODELISATION SADT (1)

(SOLUTION)

Exercice 1 (fait)

Exercice 2 (fait)

Exercice 3

a) Modélisation A-0 d'un fer à repasser à vapeur :

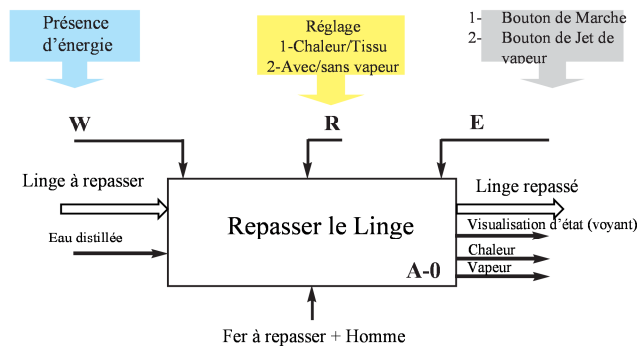


Fig 1.3 a) Modélisation A-0 d'un Fer à repasser

b) Modélisation A-0 d'un sèche-cheveux

Un sèche-cheveux permet le séchage des cheveux mouillés par un courant d'air plus au moins chaud.

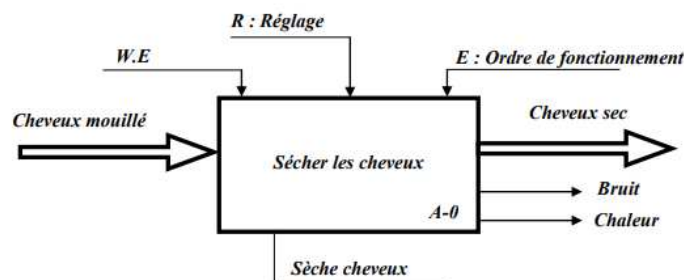
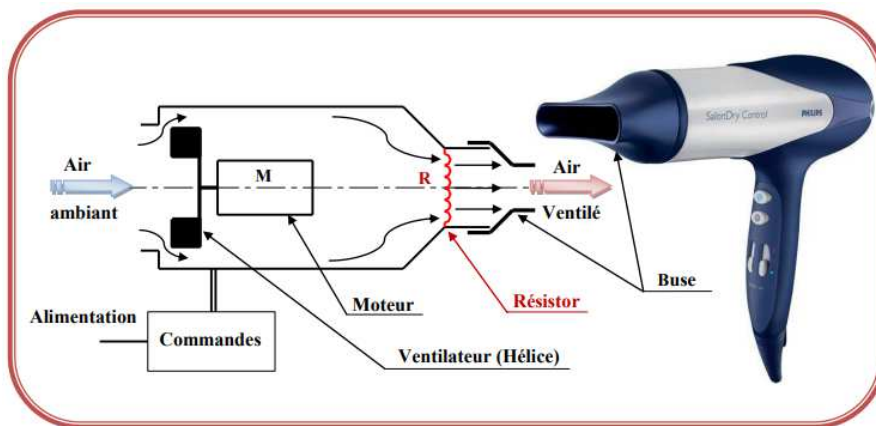
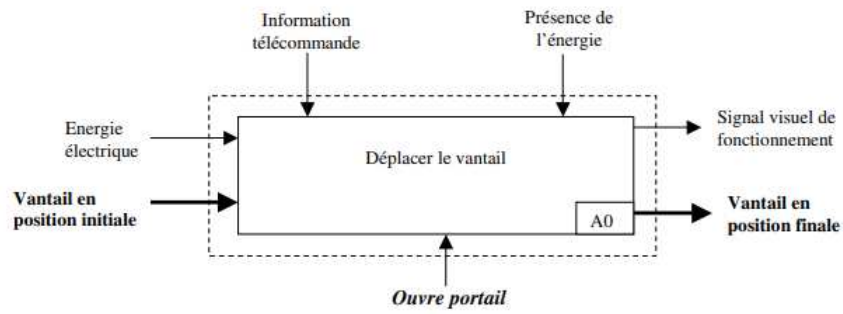


Fig 1.3 b) Modélisation A-0 d'un sèche-cheveux

Exercice 4

a) La Modélisation A-0 de l'œuvre portail électrique :



b) La Modélisation A0 de l'œuvre portail électrique :

