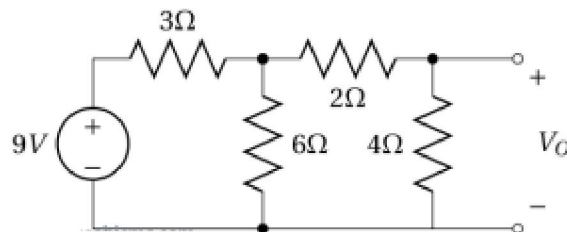


## Lois Fondamentales et analyse des réseaux

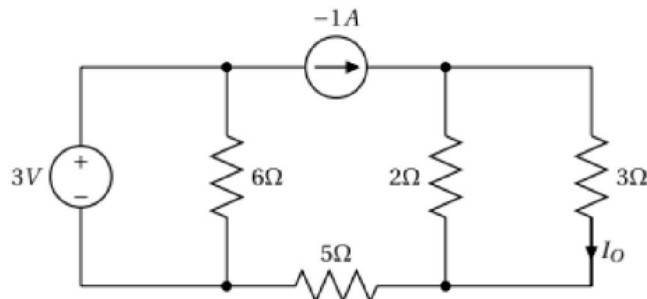
### Exercice 1

Utiliser le théorème de **Thévenin** pour déterminer  $V_0$ .



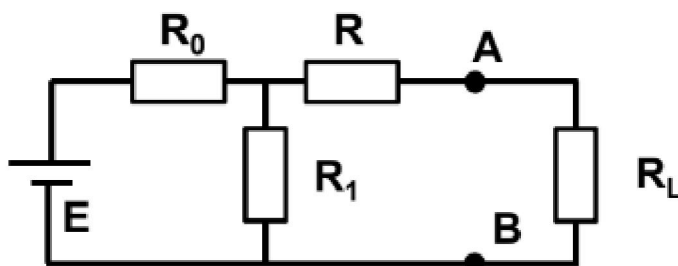
### Exercice 2

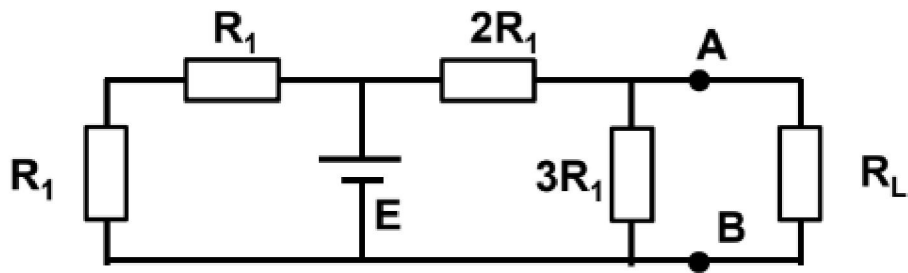
Utiliser le théorème de **Thévenin** pour déterminer  $I_0$ .



### Exercice 3

Déterminer les modèles équivalents de Thévenin des circuits placés à gauche de AB





**Exercice 4**

Déterminer les modèles équivalents de Norton des circuits placés à gauche de AB.

